

مسابقة موهوب  
Mawhoob Competition



مؤسسة الملك عبدالعزيز ورجاله للموهبة والإبداع  
King Abdulaziz & his Companions Foundation for Giftedness & Creativity



# الحقيبة التدريبية لمسابقة موهوب 2023م المرحلة الثانية Training Material For Mawhoob Competition 2023 Second Stage

إعداد

الأستاذ طلال الرشيدى  
المنسق العلي للفريق السعودي  
لأولمبياد الفيزياء الدولي IPHO

الأستاذ طارق العوفي  
مدرب دولي للفيزياء  
وخبير تعليمي

مراجعة

الأستاذ أسامة الثقفي  
مدرب دولي للفيزياء  
وخبير تعليمي





بِسْمِ اللَّهِ الرَّحْمَنِ الرَّحِيمِ



## المقدمة

### عزيزي الطالب عزيزتي الطالبة:

مؤسسة الملك عبدالعزيز ورجاله للموهبة والإبداع "موهبة" هي مؤسسة حضارية غير ربحية، أسسها خادم الحرمين الشريفين الملك عبدالله بن عبدالعزيز آل سعود - رحمه الله - عام 1419 هـ / 1999م ، تسعى إلى إيجاد بيئة محفزة للموهبة والإبداع، وتعزيز الشغف بالعلوم والمعرفة، لبناء قادة المستقبل من خلال منهجية، وفق أحدث الأساليب العلمية وأفضل الممارسات العالمية في تعليم الموهوبين والمبدعين، لاستثمار طاقاتهم وتمكينهم؛ كونهم الرافد الأساس لازدهار الانسانية، وتسعى موهبة إلى دعم الرؤية بعيدة المدى للإبداع والموهبة ورعايتها في المملكة بما يوائم تطلعات وطموح أهداف رؤية 2030 في تطوير القدرات البشرية الموهوبة واعداد جيل قادم يكون عماد الإنجاز وأمل المستقبل.

وعليه تؤمن موهبة بأن الاستثمار في تعليم الموهوبين ليس رفاهية ولا عملاً نخبويًا بل ضرورة للارتقاء بمعايير عالية الجودة في تعزيز قدراتهم حتى يسهموا في بناء مجتمعهم ليصبحوا قادة المستقبل، كما تتمتع موهبة بخبرات طويلة في تنفيذ العديد من البرامج للطلبة الموهوبين والمبدعين فهي تمثل دوراً رئيساً في المنظومة المؤسسية الحالية الداعمة لتعليم الموهوبين في المملكة وتتكامل مع نظام التعليم الوطني من خلال برامج التعرف والرعاية الشاملة والمتكاملة للموهوبين وتبادل الخبرات بما يخص التخطيط والتطبيق القيّم مع المعنيين مثل وزارة التعليم والمؤسسات الأكاديمية العالمية حول كيفية تصميم البرامج والمبادرات وتقديمها من خلال ممارسات تربوية متقدمة.

ونظراً لأن المسابقات العلمية لم تعد ترفاً يمكن الاستغناء عنه، بل أصبحت معياراً موضوعياً للتفوق والتقدم في المجالات العلمية، ولأنه مع زخم المنافسة للصعود على منصات التتويج، أصبح على كل من يريد أن يحقق ذلك أن يسلك كافة السبل التي تتيح له ليس فقط الوصول إلى تلك المنصات بل حجز مكان دائم عليها.

وفي هذا السياق تأتي مسابقة موهوب كمسابقة علمية سنوية تستهدف الطلبة من الصف السادس الابتدائي الى الصف الثاني الثانوي، كأداة لاكتشاف الطلبة المتميزين في العلوم والرياضيات والمعلوماتية والفيزياء والكيمياء والأحياء، بهدف إلحاقهم بالبرامج التدريبية المتخصصة؛ لتأهيلهم للمشاركة في المسابقات الدولية في العلوم والرياضيات، وتتكون مسابقة موهوب من ثلاث مراحل:



وبين يديك الآن الحقيقة الخاصة بمسابقة موهوب للمرحلة الثانية، والتي تستهدف الطلبة المرشحين من مسابقة موهوب في مرحلتها الأولى، ومن خلالها يتم تقديم محتوى علمي أساس في عدد من موضوعات الفيزياء، بما يحاكي منهج الأولمبياد الدولي في مراحله الأولى، و يحقق أهدافه و يتواءم مع طبيعة أسئلة المسابقات الدولية، مع الحرص على تكامل المحتوى المقدم مع موضوعات المناهج الدراسية، سعياً للوصول بالطلبة إلى مرحلة الاتقان المناسبة، و التي تضعهم على أول طريق المنافسة لنيل شرف تمثيل الوطن في المسابقات الدولية.

ولقد حرصنا في هذه الحقيقة أن نقدم لكم المادة العلمية بلغة سهلة وجذابة تدفع شغفكم الى نقاط ابعد وعوالم أخرى من التحدي والاستمتاع بالتعلم. كما أننا ننصح بألا تكون هذه المادة هي مصدرك الوحيد فعليك البحث والاطلاع بشكل مستمر فإن هذا هو ما يصنع الفارق دائماً في قدرتك على مواصلة الطريق.

## رحلة الطالب مع الأولمبياد الدولي



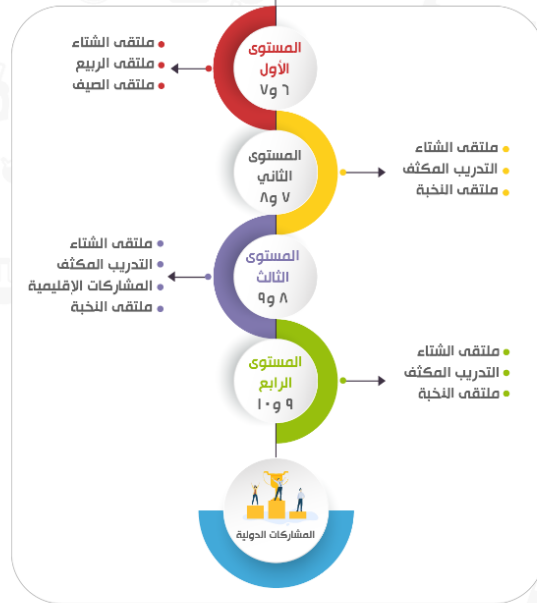
مسابقة موهوب

فيزياء كيمياء أحياء معلوماتية  
الصفوف ٨ و ٩ و (١٠ للمعلوماتية فقط)

دورات  
أساسية

رياضيات علوم  
الصف ٦ و ٧

دورات  
أساسية





رقم الصفحة	الموضوع
7	مقدمة في أساسيات الرياضيات Introduction to the basics of Mathematics
21	المتجهات في بعدين Vectors In Tow Dimension
40	معادلات الحركة السقوط الحر Equations of motion free fall

# مقدمة في أساسيات الرياضيات

## Introduction to the basics of Mathematics



توصف الرياضيات بأنها "أداة أساسية للفيزياء"، وتوصف الفيزياء بأنها "مصدر غني للإلهام والبصيرة في الرياضيات"، وهذا يعبر بوضوح عن العلاقة الحميمة بينهما، وبالفعل فالفيزياء تستخدم الرياضيات كلفة تعبر بها عن محتواها العلمي في وصف الظواهر الطبيعية، من خلال المعادلات والقوانين والنظريات، كما أن مشكلات عويصة وظواهر غامضة في الفيزياء، كان حلها بتطوير الرياضيات للتوابع معها، والقدرة على وصفها بشكل أكثر عمقاً.

إن تقدّم الفيزياء في القرون الأخيرة ابتداءً من القرن السادس عشر الميلادي، كان متزامناً مع التقدّم في الرياضيات.

وفي هذا الفصل سنعرض لعدد من أهم العمليات والمهارات الرياضية التي يلزمك إتقانها للمضي قدماً في إتقان مادة الفيزياء في الفصول اللاحقة.

## الأرقام المعنوية Significant Digits

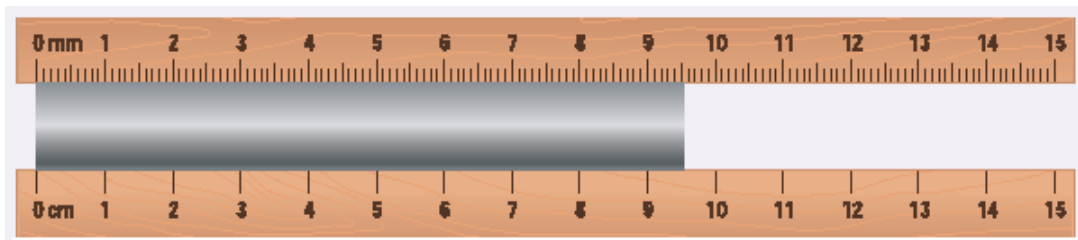
جميع القياسات الناتجة عن استخدام الأدوات والأجهزة تقريبية، ولذلك تكتب بطريقة الأرقام المعنوية، ويكون الرقم الأخير على اليمين في نتيجة القياس غير مؤكد.

**الأرقام المعنوية:** هي الأرقام الموثوقة في قياس ما.

لذلك عندما تكتب نتيجة قياس، اكتب الأرقام التي تراها بعينك ومتأكد منها تماماً، أي التي يعطيها جهاز أو أداة القياس، ثم اكتب رقماً واحداً يعبر عن تقديرك على يمين الناتج، ولا يسمح لك بإضافة رقم آخر.

**Exercise:** Write the result of measuring the length of the metal strip using the upper and lower rulers in the rules of significant digits with the Precision of the tool.

**تدريب:** اكتب نتيجة قياس طول الشريحة المعدنية باستخدام المسطرتين العلوية والسفلية بطريقة الأرقام المعنوية مع دقة الأداة.



-----

-----

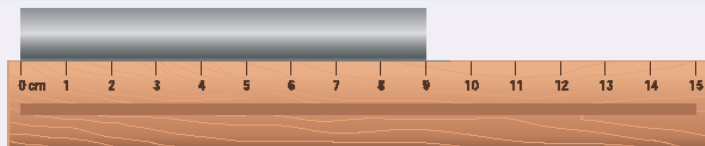
-----

-----

-----

**تدريب:** اكتب نتيجة قياس طول الشريحة المعدنية بطريقة علمية صحيحة.

**Exercise:** Write the result of measuring the length of the metal strip in a correct scientific way.

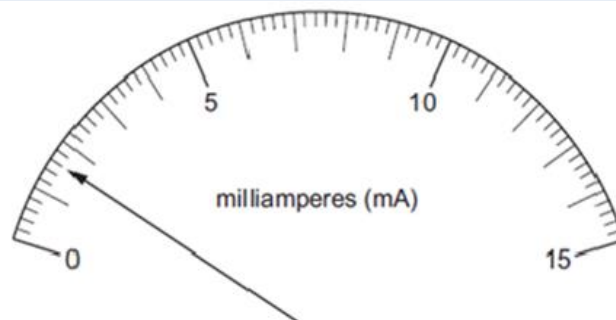


-----

-----

-----

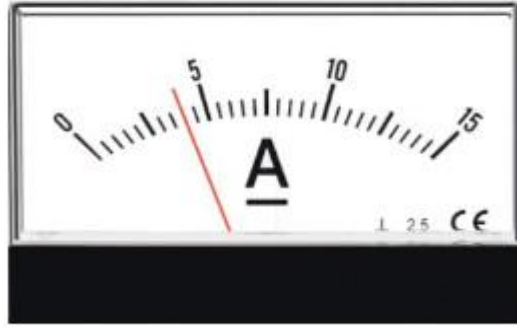
**تدريب:** اكتب بطريقة الأرقام المعنوية نتيجة قياس شدة التيار باستخدام الأميتر الموضح في الشكل.



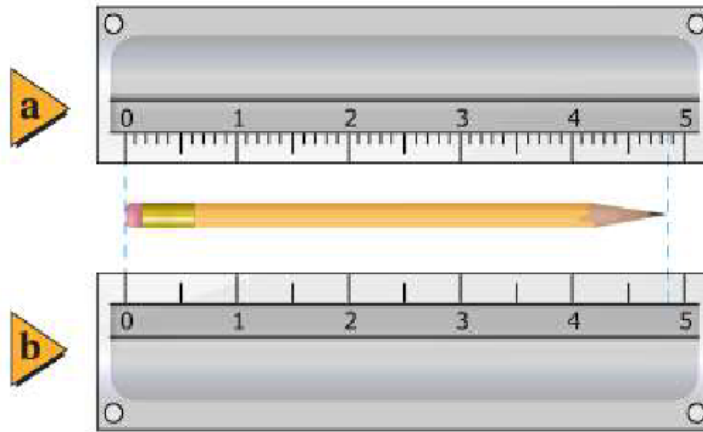
-----



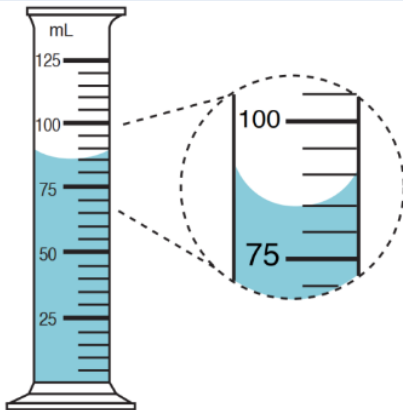
**تدريب:** اكتب بطريقة الأرقام المعنوية نتيجة قياس شدة التيار باستخدام الأميتر الموضح في الشكل.



**تدريب:** اكتب بطريقة الأرقام المعنوية نتيجة قياس طول قلم الرصاص باستخدام المسطرتين الموضحة في الشكل. (نتيجة القياس مع دقة الأداة) علماً بأن التدرج بوحدة (cm)



**تدريب:** اكتب قراءة المخبر المدرج لارتفاع السائل بطريقة علمية صحيحة مع دقة القياس.





## قواعد تحديد عدد الأرقام المعنوية Rules for determining the Significant Digits

عدد الأرقام المعنوية Numbers of Significant Digits	مثال	القاعدة Rule	م
	9876	الأرقام غير الصفرية أرقام معنوية	1
	64.34		
	24.000	الأصفر الأخيرة بعد الفاصلة العشرية أرقام معنوية	2
	3006	الأصفر بين رقمين معنويين أرقام معنوية	3
	6.0309		
	0.0045	الأصفر التي تستعمل لحجز منازل غير معنوية	4
	<b>0.0000380</b>		

(5) الأصفار الواقعة على يمين العدد الصحيح الذي لا يحوي علامة عشرية قد تعتبر معنوية وقد تعتبر كلها أو بعضها غير معنوية، ولذلك يفضل كتابته بطريقة قوى العشرة لتحديد عدد الأرقام المعنوية  
مثال: العدد 4500: لنحدد عدد الأرقام المعنوية فيه بدقه نكتبه بأحد الصيغ التالية:

Example: : 4500: to precisely define the number of significant digits in it, we write it in one of the following formulas:

$$\text{-----: } 4.5 \times 10^3 \quad \text{-----: } 4.50 \times 10^3 \quad \text{-----: } 4.500 \times 10^3$$

### تدريب:

حدد عدد الأرقام المعنوية في الأعداد التالية:

----- 300.00 ----- 0.01  
----- 30 ----- 0.100200

### تدريب:

قرب كل رقم إلى عدد الأرقام المعنوية المتضمنة بين الأقواس الآتية:

(1) 0.0034 m .c (2) 1405 m .a

(3) 12.007 kg .d (2) 2.50 km .b

## العمليات الحسابية باستخدام الأرقام المعنوية Operations with Significant Digits

الضرب والقسمة وعمليات المجاميع

Multiplication, Division and Combination

عدد الأرقام المعنوية في الناتج يساوي  
عددها في القياس الأقل دقة.

Calculate the result of the following operations by the rules of significant numbers

$$8.42 \times 3.0 = \text{-----}$$

$$\frac{6.00}{2.0} = \text{-----}$$

الجمع والطرح

Addition and Subtraction

يُقرب الناتج إلى عدد المنازل العشرية  
للقياس الأقل دقة

Calculate the result of the following operations by the rules of significant numbers.

$$4.83 + 2.1 = \text{-----}$$

$$15.741 - 6.30 = \text{-----}$$

عمليات المجاميع: تتبع قاعدة الضرب والقسمة.

تدريب: احسب ناتج العمليات التالية، واكتبه بالعدد المناسب للأرقام المعنوية.

$$d = 19 \text{ m} + (25.0 \text{ m/s}) (2.50 \text{ s}) + \frac{1}{2} (-10.0 \text{ m/s}^2) (2.50 \text{ s})^2 =$$

$$m = \frac{70.0 \text{ m} - 10.0 \text{ m}}{29 \text{ s} - 11 \text{ s}} =$$

### الجولة السريعة:

(1) 30.5 مقرب إلى رقمين معنويين يساوي:

أ) 30      ب) 31      ج)  $3.0 \times 10$       د)  $3.1 \times 10$

(2) 0.0034 مقرب إلى رقم معنوي واحد يساوي:

أ) 0.003      ب) 0.0030      ج) 0.004      د) 0.0040

(3) حاصل جمع نتيجتي قياس 6.53 سنتيمتر، و 2 سنتيمتر، هو (بوحدة السنتيمتر): (بطريقة الأرقام المعنوية)

(أ) 8.53 (ب) 8.5 (ج) 8 (د) 9

(4) الضرب الصحيح لنواتج قياسات تجريبية 5.2X3.0 هو:

(أ) 15.6 (ب) 15.60 (ج) 15 (د) 16

(5) الطرح الصحيح للعملية 45-8.3 هو:

(أ) 37 (ب) 37.0 (ج) 36 (د) 36.7

تدريب:

بسّط التعبيرات الرياضية الآتية مستعملًا العدد الصحيح من الأرقام المعنوية:

**.b** 45 g - 8.3 g

**.a** 2.33 km + 3.4 km + 5.012 km

**.d** 54 m ÷ 6.5 s

**.c** 3.40 cm × 7.125 cm

### التناسب Proportionality

**التناسب:** معادلة يتم فيها مساواة نسبيتين وتأخذ الشكل التالي:  $\frac{a}{b} = \frac{c}{d}$  بحيث أن المقام لا يساوي الصفر. لإيجاد قيمة أحد المتغيرات نستخدم: الضرب التبادلي (حاصل ضرب الطرفين = حاصل ضرب الوسطين)

مثال: لإيجاد قيمة  $a$ :  $\frac{a}{b} = \frac{c}{d}$   $ad = bc$   $a = \frac{bc}{d}$

## الجولة السريعة:

1) إذا كانت  $\frac{ab}{2} = c$  فإن قيمة  $a$  تساوي :

- (أ)  $\frac{2c}{b}$   
(ب)  $\frac{c}{2b}$   
(ج)  $\frac{2b}{c}$   
(د)  $\frac{b}{2c}$

2) إذا كان  $\frac{2x}{2} = \frac{3}{5}$  فإن قيمة  $x$  تساوي :

- (أ) 0.6  
(ب) 0.5  
(ج) 6/5  
(د) 1.2

3) إذا كانت  $\frac{1}{4}a = \frac{2}{3}$  فإن قيمة  $a$  هي :

- (أ) 8/3  
(ب) 1/6  
(ج) 2  
(د) 5

4) في المعادلة  $x^2 - 2 = \frac{4}{5} + \frac{6}{5}$  , قيمة  $x$  تساوي

- (أ) 1  
(ب) 2  
(ج) 3  
(د) 4

## المعادلات وحلولها Equations And Their Solutions

الرياضيات هي لغة الفيزياء، حيث تستخدمها الفيزياء في وصف الظواهر والأحداث، ومن أدوات ذلك هي المعادلات الرياضية، وعكس ما يظن البعض بأن المعادلات هي وصف مجرد لا تطبيق له، إلا أنك سترى أثناء دراستك للفيزياء معاني الكثير من المعادلات الرياضية ومن صورها القوانين الفيزيائية، وكيف أنها تمثل الإطار الذي يصل بين الأفكار النظرية وتطبيقاتها وتسمى "نمذجة للظاهرة".

ومن المهارات الممتعة في الرياضيات حل المعادلات، وهي مهارة مهمة وأساسية لكل دارس للفيزياء.

## ماهية المعادلة؟

المعادلة في الرياضيات عبارة مؤلفة من أعداد ورموز، تنص على مساواة تعبيرين رياضيين. وقد تحتوي على مقدار مجهول أو أكثر يرمز له غالباً بالرموز  $x$  و  $y$

## المعادلة من الدرجة الأولى بمجهول واحد First-degree Equation With one Unknown

تأخذ الصورة الرياضية:  $ax + b = 0$  حيث  $a$  و  $b$  عدنان حقيقيان معلومان.  $a \neq 0$   
على سبيل المثال:  $2x - 8 = 0$  وهي تحتوي على حدين هما:  $2x$  و  $-8$   
 $x + 2 = 8$  وهي تحتوي على ثلاثة حدود هي:  $x$  و  $2$  و  $8$   
 $5 = 2x - \frac{3}{5}$  وهي تحتوي على ثلاثة حدود هي:  $2x$  و  $5$  و  $-\frac{3}{5}$

### ملاحظة هامة:



الحد في الرياضيات هو ما ينفصل عن غيره بإحدى الإشارتين + أو - في المعادلة.

### قواعد عامة:

**القاعدة الأولى:** في معادلة ما يمكن أن نضيف أو نطرح من طرفيها نفس العدد دون أن تتغير هذه المعادلة:

$$a = b \iff a + c = b + c$$

$$a = b \iff a - c = b - c$$

**القاعدة الثانية:** في معادلة يمكن أن نضرب أو نقسم طرفيها على نفس العدد دون أن تتغير هذه المعادلة:

$$a = b \iff a \times c = b \times c \quad (c \neq 0)$$

$$a = b \iff a \div c = b \div c \quad (c \neq 0)$$

### حل المعادلة:

حل المعادلة يعني إيجاد قيمة المتغير المجهول  $x$ ، وتسمى قيمة المتغير  $x$  حل المعادلة أو جذر المعادلة.

بصفة عامة: نعتبر المعادلة  $ax + b = 0$  ويمكن أن نحلها بخطوتين كالتالي:

خطوة 1: نطرح  $b$  من طرفي المعادلة:  $ax + b - b = 0 - b$  ونحصل على:  $ax = -b$

خطوة 2: نقسم طرفي المعادلة على  $a$ :  $\frac{ax}{a} = \frac{-b}{a}$  ونحصل على:  $x = \frac{-b}{a}$



Exercise: Find  $x$

تدريب: أوجد قيمة  $x$

$$\frac{1}{2}x - 2 = \frac{3}{8}$$

$$2x + 2 = 10 - 2x$$

$$2x + 2 = 10$$

$$x + 2 = 8$$

Handwriting practice lines consisting of multiple horizontal dashed lines for writing the solutions to the equations.



## المعادلات من الدرجة الثانية Tow-degree Equation With one Unknown

تأخذ الصيغة التالية:  $ax^2 + bx + c = 0$  حيث  $a \neq 0$   
تحل بطرق رياضية متنوعة منها استخدام المميز:  $x = \frac{-b \pm \sqrt{b^2 - 4ac}}{2a}$

ويمكن حلها باستخدام الآلة الحاسبة (تعرف على الطريقة بمساعدة معلمك).

تدريب: حل المعادلات التالية بالنسبة إلى المتغير  $x$  باستخدام قانون المميز وتأكد من حلك باستخدام الآلة الحاسبة:



$$2x^2 + 5x + 3 = 0$$

---



---



---

$$x^2 - 2x - 24 = 0$$

---



---



---

## حساب المثلثات Trigonometry

### المثلث: Triangle

أطوال أضلاع المثلث وزواياه موضحة في الشكل.  
العلاقة التي تربط زوايا المثلث:

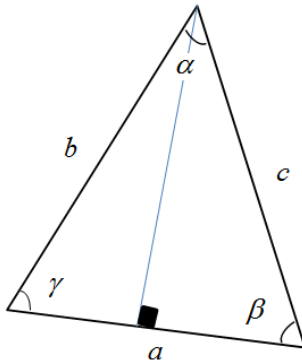
$$\alpha + \beta + \gamma = 180^\circ = \pi$$

العلاقات التي تربط بين أطوال أضلاع المثلث:

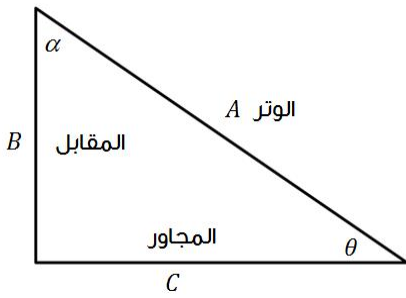
$$a < b + c \quad b < a + c \quad c < a + b$$

$$C = a + b + c \quad \text{محيط المثلث:}$$

$$A = \frac{1}{2}ah \quad \text{مساحة المثلث: حيث } h \text{ هو الارتفاع}$$



## الدوال المثلثية Trigonometric functions



سبق دراسة "نظرية فيثاغورس" ومنها استطعنا إيجاد طول الضلع الثالث في مثلث قائم الزاوية بدلالة طول ضلعيه الآخرين، كما استخدمنا هذه العلاقة في تطبيقات فيزيائية.

مربع طول الوتر = مجموع مربعات طولَي الضلعين القائمين:

$$A^2 = B^2 + C^2$$

تذكر أن الوتر هو أطول أضلاع المثلث قائم الزاوية ويقابل الزاوية  $90^\circ$

لكن هل يمكن استخدام طول ضلع وزاوية لإيجاد بقية اطوال اضلاع المثلث؟

يمكننا ذلك ببساطة باستخدام الدوال المثلثية، وسنكتبها للزاوية  $\theta$  الموضحة في الشكل: حيث تم تسمية الأضلاع

كالتالي:  $B$ : المقابل لأنه يقابل الزاوية  $\theta$   $C$ : المجاور لأنه يجاور الزاوية  $\theta$

أما الوتر  $A$  فلا يسمى مجاور

**والدوال الأساسية هي:**

$$\text{دالة الجيب: } \sin \theta = \frac{B}{A}$$

$$\text{دالة جيب التمام: } \cos \theta = \frac{C}{A}$$

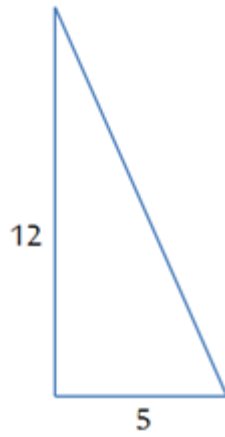
$$\text{دالة الظل: } \tan \theta = \frac{B}{C} \quad \tan \theta = \frac{\sin \theta}{\cos \theta}$$

**Concept check:** Write the trigonometric functions of the angle  $\alpha$  in figure.

التحقق من المفهوم: اكتب الدوال المثلثية للزاوية  $\alpha$  الموضحة في الشكل السابق.



## الجولة السريعة:



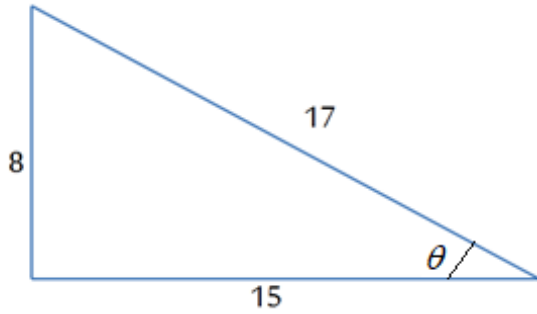
1) في المثلث المجاور، طول الوتر يساوي:

أ) 13

ب) 14

ج) 15

د) 16



2) في المثلث المجاور، جيب تمام الزاوية  $\theta$

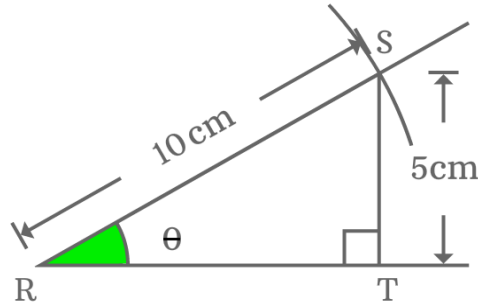
يساوي:

أ)  $8/15$

ب)  $8/17$

ج)  $15/17$

د)  $17/15$



3) في المثلث المجاور، قيمة الزاوية  $\theta$  بالدرجات

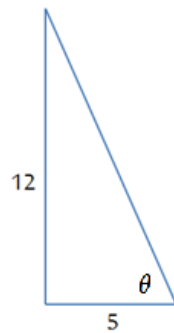
تساوي:

أ) 25

ب) 30

ج) 35

د) 40



4) في المثلث المجاور، جيب الزاوية  $\theta$  يساوي:

أ)  $12/5$

ب)  $5/13$

ج)  $12/15$

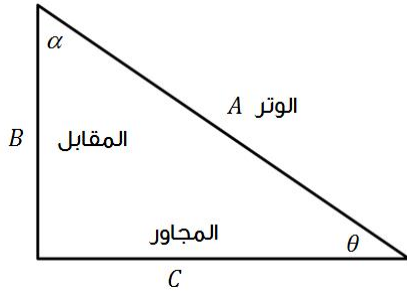
د) الجواب: د

**Exercise:** Find the length of the sides in triangle

if  $\theta = 30^\circ$   $B=6$  m

**تدريب:** أوجد أطوال أضلاع المثلث

إذا كان  $\theta = 30^\circ$   $B=6$  m



---

---

---

---

---

---

---

---

---

---

---

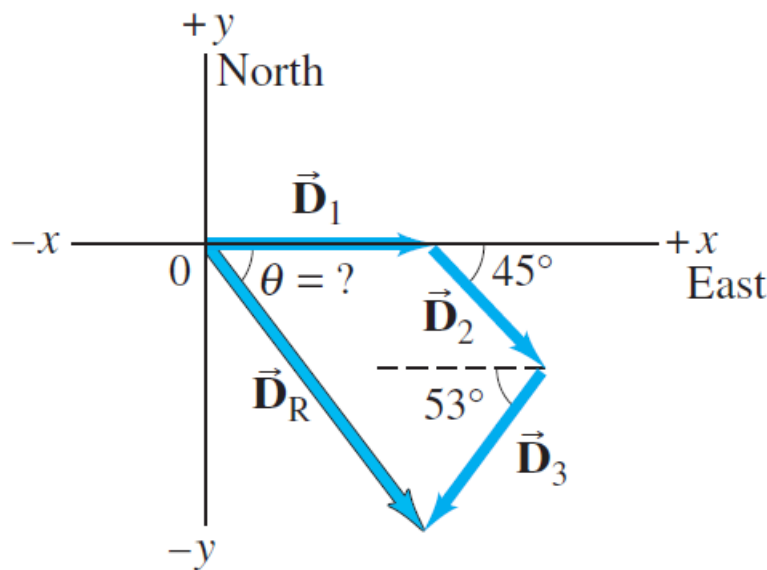
---

---

---

## المتجهات في بعدين

### Vectors In Two Dimension



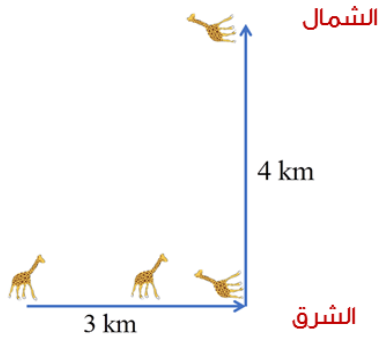
هل تتذكر هذا المثال والذي عرضناه سابقاً في حقيبة مسابقة موهوب-1، حيث تتضمن رحلة طائرة ثلاث مراحل، الأولى 620 km باتجاه الشرق، والثانية 440 km وتصنع زاوية  $45^\circ$  جنوب الشرق، والثالثة 550 km وتصنع زاوية  $53^\circ$  جنوب الغرب.

بإمكانك بسهولة حساب الإزاحة النهائية للطائرة  $\vec{D}_R$  بطريقة الرسم، حيث ستكون الإزاحة متجه مستقيم من نقطة انطلاق الطائرة لنقطة توقفها، وباستخدام مقياس رسم مناسب يمكن حساب مقدارها، وباستخدام المنقلة يمكنك حساب الزاوية التي تصنعها الإزاحة مع اتجاه الشرق.

في هذا الفصل ستتعرف على طرق حساب الإزاحة أو محصلة عدة متجهات عموماً باستخدام طرق حسابية، كما ستتعرف على أساسيات جديدة في التعامل مع المتجهات.

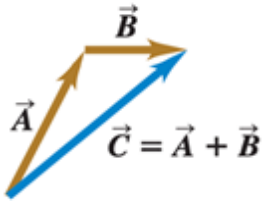
## العمليات على الكميات القياسية والمتجهة Operations on Scalar and Vector Quantities

نستخدم مع الكميات القياسية عمليات الحساب العادية. على سبيل المثال:  
 $6 \text{ kg} + 3 \text{ kg} = 9 \text{ kg}$  او مثلاً  $2 \times 3 \text{ s} = 6 \text{ s}$  لكن التعامل مع المتجهات يتطلب مجموعة مختلفة من العمليات، لأنها تتضمن مقدراً واتجهاً.



لفهم العمليات الخاصة بالمتجهات نبدأ بأبسط الكميات المتجهة وهي الإزاحة (**Displacement**) والتي تعني البعد المستقيم المتجه بين موضعين، وعندما يطلب منك أن تجمع إزاحتين متتاليتين لزرافة الأولى 3 km باتجاه الشرق والثانية 4 km باتجاه الشمال، أي تحسب إزاحتها النهائية عن نقطة انطلاقها، فبالأكيد أن الناتج لن يكون 7 km، أي أنها لا تجمع بطريقة الكميات القياسية.

### جمع المتجهات: Adding Vectors



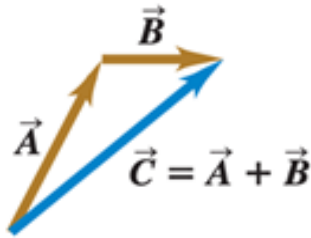
افترض جسم قطع إزاحة  $\vec{A}$  ثم اتبعها بإزاحة أخرى  $\vec{B}$  ستكون النتيجة النهائية كما لو أنه تحرك من نقطة البداية إلى نقطة النهاية بشكل مستقيم والتي تمثل المتجه  $\vec{C}$  (الإزاحة النهائية).  
 نطلق على المتجه  $\vec{C}$  المحصلة Resultant vector او الجمع الاتجاهي ويمكن كتابة النتيجة كالتالي:

$$\vec{C} = \vec{A} + \vec{B}$$

مع ملاحظة أن الجمع هنا ليس جمعاً جبرياً، أي لانجمع قيم المتجهات A و B جمعاً مباشراً. سنتعرف الآن على طرق متنوعة في إيجاد المحصلة.

## جمع المتجهات في بعدين بالرسم:

تعني المحصلة ذلك المتجه الذي يحل محل متجهين أو أكثر ويعمل عملها معاً. قد تكون هذه المتجهات في بعدين أو حتى ثلاثة أبعاد، مثلاً متجهان يصنعان زاوية أيّاً كانت. يمكن إيجاد محصلتهما بطريقة الرسم التي تعلمتها سابقاً، ونذكرك بها الآن.

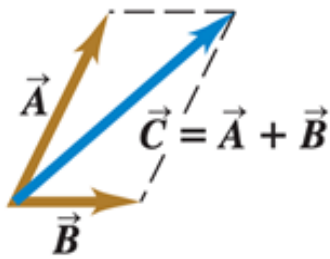


### طريقة الذيل للرأس Tail to Head

يرسم ذيل المتجه الثاني  $\vec{B}$  من رأس المتجه الأول  $\vec{A}$ ، وتكون المحصلة  $\vec{C}$  : متجه من أول ذيل إلى آخر رأس.

draw the tail of the second vector  $\vec{B}$  from the head of the first vector  $\vec{A}$ ,

The resultant is  $\vec{C}$ : a vector from the first's tail to the last's head.

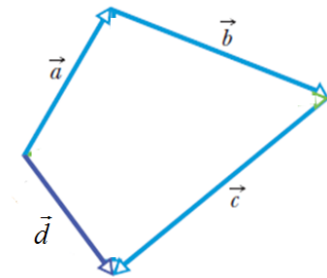


### طريقة متوازي الأضلاع Parallelogram

نجعل للمتجهين  $\vec{A}$  و  $\vec{B}$  ذيل مشترك، ونكمل متوازي الأضلاع. وتكون المحصلة  $\vec{C}$  : قطر متوازي الأضلاع ولها نفس الذيل.

We draw the two vectors  $\vec{A}$  and  $\vec{B}$  so that they have a common tail and complete the parallelogram.

The resultant  $\vec{C}$  is the diagonal of a parallelogram with the same tail.



### طريقة متعدد الأضلاع Polygonal

نرسم المتجهات توالياً بحيث ينطلق ذيل كل متجه من رأس المتجه السابق. وتكون المحصلة  $\vec{d}$  : متجه من أول ذيل لآخر رأس.

We draw the vectors in succession so that the tail of each vector starts from the head of the previous vector. The resultant  $\vec{d}$  is a vector from the first tail to the last head.

---

---

---

---

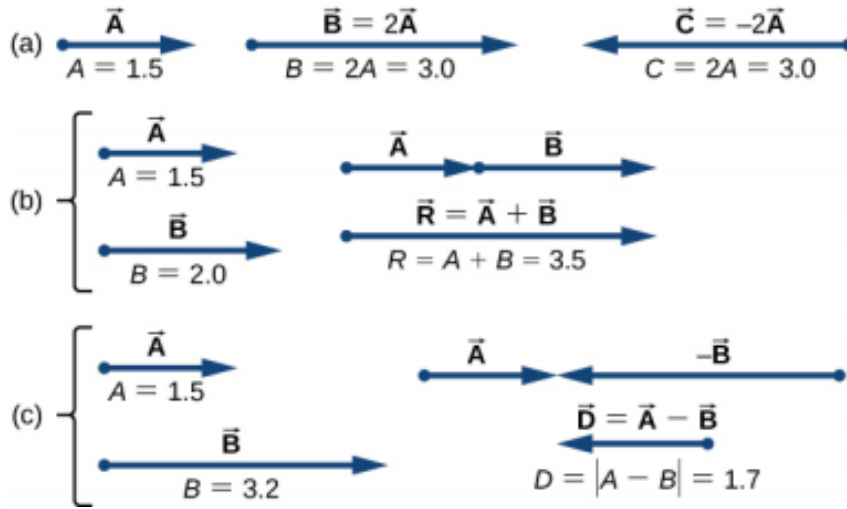
---





## جمع المتجهات في بعد واحد حسابياً:

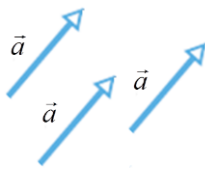
ركزت دراستك السابقة في حقبة موهوب - 1 على المتجهات في بعد واحد، مثلاً على المحور الإحداثي  $x$  أو المحور الإحداثي  $y$  أو في أي خط مستقيم أياً كان اتجاهه، حيث يكون لديك متجه أو أكثر على استقامة واحدة. راجع الشكل أدناه، وتذكر كيف يتم حساب محصلة المتجهات على بعد واحد حسابياً.



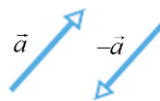
## بعض خصائص المتجهات:

نقل المتجهات: يمكن نقل المتجه من موقع لآخر بشرط المحافظة على طول واتجاهه.

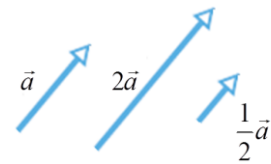
نقل المتجهات



معكوس المتجه



ضرب المتجه بعدد



لاحظ أنه:

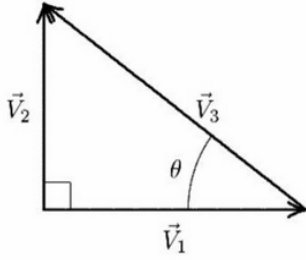
- عند ضرب المتجه بعدد موجب: يكون للمتجه الناتج نفس الاتجاه.
- عند ضرب المتجه بعدد سالب: يكون للمتجه الناتج بعكس الاتجاه.

تطبيق: ارسم المتجه  $2\mathbf{e}$  - في المثال السابق، ارسم ثلاث متجهات متماثلة بطريقة نقل المتجهات، اختر المقدار والاتجاه بطريقتك.

**Exercise:** Three vectors shown in figure, which of the following equations are correct?

**تدريب:** ثلاث متجهات موضحة في الشكل. أي المعادلات الاتجاهية التالية صحيحة؟

$\vec{V}_3 = \vec{V}_1 \cos \theta$  (د)     $\vec{V}_3 = \vec{V}_2 - \vec{V}_1$  (ج)     $\vec{V}_3 = \vec{V}_1 + \vec{V}_2$  (ب)     $\vec{V}_3 = \vec{V}_1 - \vec{V}_2$  (أ)




---

---

---

---

---

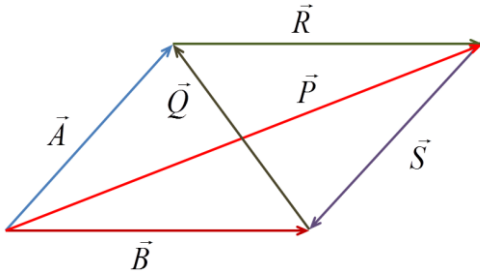
---

---

---

**Exercise:** In terms of vectors A and B, express the vectors P, R, S, and Q

**تدريب:** بدلالة المتجهين A و B عبر عن المتجهات P و R و S و Q




---

---

---

---

---

---

---

---

**Concept check:** two vectors 6 units and 16 units  
Their sum could be:

**التحقق من المفهوم:** متجهان 6 units و 16 units ، حاصل جمعها ممكن أن يكون:



- 23 units (د)    17 units (ج)    9 units (ب)    6 units (أ)

---

---

---

---

---

---

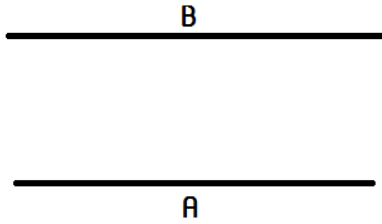
---

---

**Exercise:** A boat wants to cross the river from point A to point B opposite it on the other side of the river, if you know that the boat's speed relative to water 2.0 m/s and the water is running to the west with speed 1.0 m/s

What is the angle that the boat must take to reach point B?

**تدريب:** سفينة تريد أن تعبر النهر من النقطة A إلى النقطة B المقابلة لها من الضفة الأخرى للنهر، إذا علمت أن سرعة السفينة بالنسبة للماء 2.0 m/s والماء يجري غرباً بسرعة 1.0 m/s ماهي الزاوية التي لابد أن يسلكها القارب بحيث يصل للنقطة B وضح بالرسم.




---

---

---

---

---

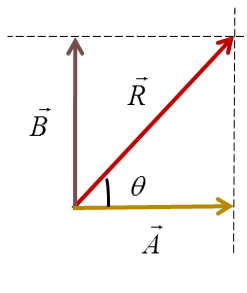
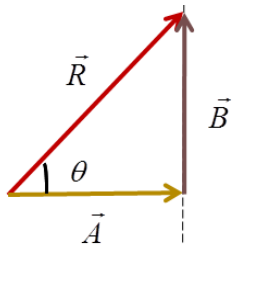
---

---

---

## جمع المتجهات المتعامدة

المتجهات المتعامدة هي متجهات بينها زاوية  $90^\circ$ ، يتم إيجاد مقدار محصلتها باستخدام نظرية فيثاغورس. ويمكن حساب اتجاه المحصلة باستخدام الدوال المثلثية



مقدار المحصلة:

$$R = \sqrt{A^2 + B^2}$$

اتجاه المحصلة:  $\theta = \tan^{-1} \frac{B}{A}$

**Exercise:** Muhammad moved 8.00 m to the west, then moved 6.00 m to the north, calculate his displacement in magnitude and direction.

**تدريب:** تحرك محمد 8.00 m باتجاه الغرب ثم تحرك 6.00 m باتجاه الشمال احسب إزاحته مقداراً واتجهاً.

---

---

---

---

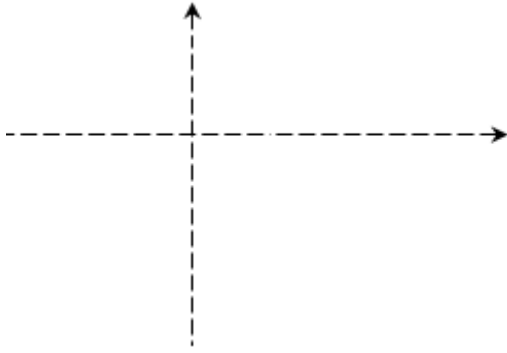
---

---

---

---

**تدريب:** تتحرك زرافة 12 km شرقاً ثم 4.0 km غرباً ثم 6.0 km جنوباً. احسب مقدار واتجاه إزاحتها.




---

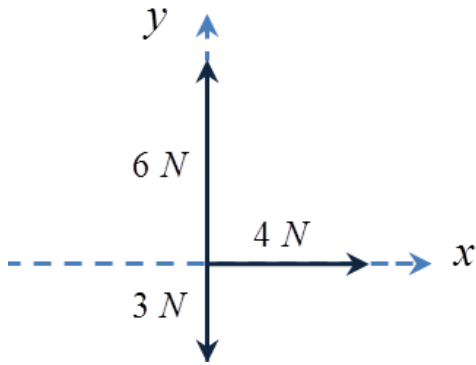
---

---

---

---

**تدريب:** احسب مقدار واتجاه قيمة القوة اللازمة لموازنة القوى الموضحة في الشكل.



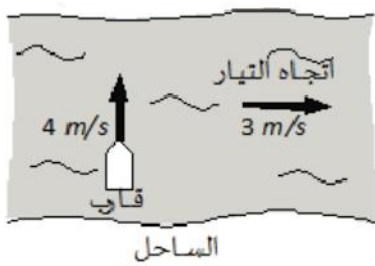

---

---

---

---

---



**تدريب:** يتحرك قارب بسرعة 4.0 m/s باتجاه الشمال بالنسبة لنهر، إذا كانت سرعة النهر 3.0 m/s باتجاه الشرق كما هو موضح بالرسم، فما مقدار واتجاه سرعة القارب بوحدة (m/s) بالنسبة لمشاهد واقف على الساحل؟

---

---

---

---

---

---

---

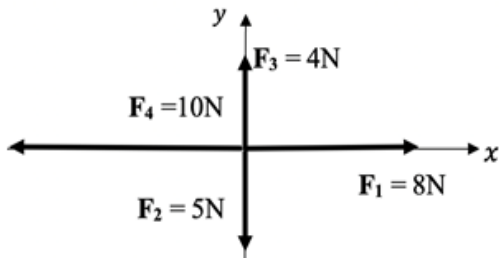
---

---

---

**Exercise:** Find the resultant of the coplanar force system shown in fig.

**تدريب:** أحسب مقدار واتجاه محصلة مجموعة القوى المستوية المعطاة في الشكل.




---

---

---

---

---

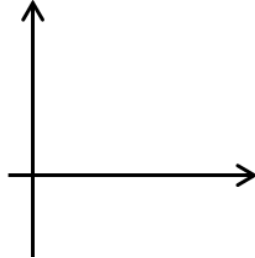
---

---

---

**Exercise:** A plane is traveling eastward at an airspeed of  $5.00 \times 10^2$  km/h. But a  $9.00 \times 10^1$  km/h wind is blowing southward. What are the direction and speed of the plane relative to the ground?

**تدريب:** تحلق طائرة باتجاه الشرق بسرعة  $5.00 \times 10^2$  km/h بالنسبة للهواء، إلا أن ريحاً سرعتها  $9.00 \times 10^1$  km/h تهب باتجاه الجنوب، ماهي سرعة الطائرة وما هو اتجاهها بالنسبة للأرض؟




---

---

---

---

---

---

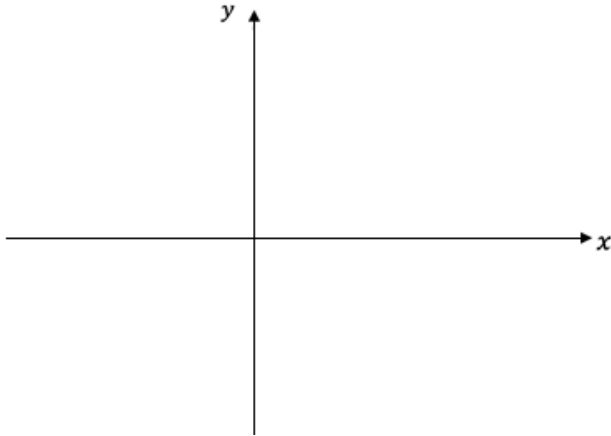
---

---



**Exercise:** A car moved 30.0 km east, then turned 70.0 km north, then turned east again and moved 20.0 km, then headed 25 km south. Use the coordinate plane to represent the motion of the car and then find the displacement

**تدريب:** تحركت سيارة 30.0 km شرقاً ثم انعطفت نحو الشمال 70.0 km ثم انعطفت مرة أخرى نحو الشرق وقطعت 20.0 km ثم اتجهت نحو الجنوب 25 km استخدم المستوي الاحداثي لتمثيل حركة السيارة ثم اوجد الازاحة.




---

---

---

---

---

---



---

---

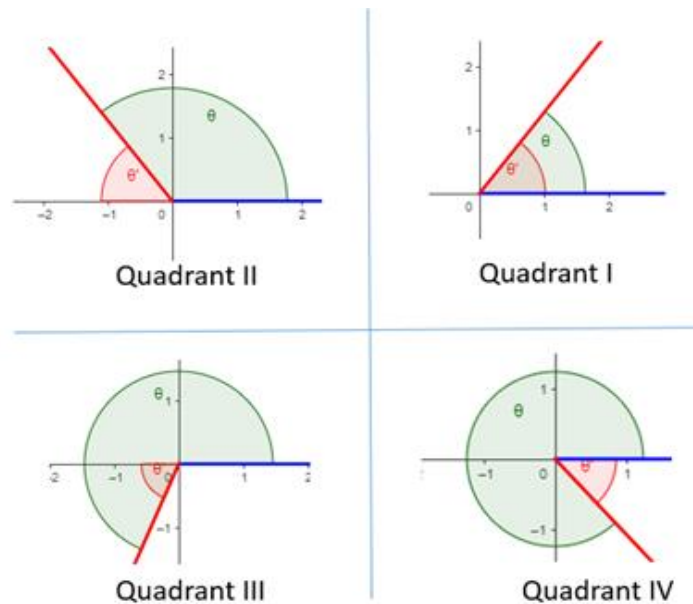
---

---

---

---

## Standard Angle and Reference Angle الزاوية القياسية والزاوية المرجعية



يعطى عادة زاوية للمتجه مع مقدار بدون تحديد المحور الذي تم احتسابها منه واتجاه الدوران، وفي هذه الحالة تكون الزاوية قياسية.

الزاوية القياسية  $\theta$  (Standard Angle): يتم احتسابها ابتداءً من محور  $x$  بعكس اتجاه عقارب الساعة.

الزاوية المرجعية  $\theta'$  (Reference Angle): يتم احتسابها بين المتجه وأحد المحاور.

---

---

---

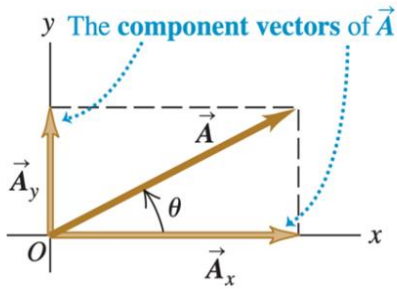
---

---

---

## مركبات المتجه Vector Components

فيما سبق، استخدمنا في جمع المتجهات (إيجاد المحصلة) الرسم وخصائص المثلث القائم الزاوية ولكنها طرق محدودة تحكمها حالات خاصة، لذلك نحن بحاجة إلى طريقة بسيطة ولكنها عامة لجمع المتجهات (إيجاد المحصلة) وهذا ما يسمى طريقة مركبات المتجهات.



لتوضيح ماذا نعني بمركبات المتجه  $\vec{A}$  سنستخدم المستوي الإحداثي ونرسم المتجه من نقطة الأصل ونشير إلى أن هذا المتجه هو نتيجة جمع المتجهين الموازيين لمحور  $x$  و  $y$  ويطلق عليهما المركبات ونرمز لهما بالرمز  $\vec{A}_x$  و  $\vec{A}_y$  :  $\vec{A} = \vec{A}_x + \vec{A}_y$

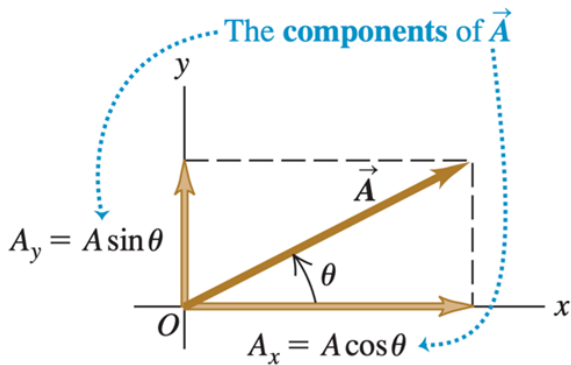
$$\tan \theta = \frac{A_y}{A_x} \quad A = \sqrt{A_x^2 + A_y^2} \quad \text{من المهم ملاحظة أن:}$$

ملاحظة مهمة: الزاوية  $\theta$  التي تحسب من المعادلة السابقة هي الزاوية القياسية

حساب المركبات: نستخدم الدوال المثلثية:

$$\cos \theta = \frac{\text{المجاور}}{\text{الوتر}} = \frac{A_x}{A} \quad A_x = A \cos \theta$$

$$\sin \theta = \frac{\text{المقابل}}{\text{الوتر}} = \frac{A_y}{A} \quad A_y = A \sin \theta$$



وهي طريقة عامة، علماً بأن  $\theta$  هي الزاوية القياسية (ارجع لتعريف الزاوية القياسية) أما إذا أعطيت زاوية  $\theta$  مرجعية، أي محسوبة لمحور ما، فيكون أسهل استخدام الطريقة التالية:

قيمة مركبة المتجه =  $\pm$  قيمة المتجه الأصلي  $\times$   $\left. \begin{array}{l} \sin \theta : \text{إذا كانت المركبة مقابلة للزاوية } \theta \\ \cos \theta : \text{إذا كانت المركبة مماسة للزاوية } \theta \end{array} \right\}$



$A_x$ negative	$A_x$ positive
$A_y$ positive	$A_y$ positive
$A_x$ negative	$A_x$ positive
$A_y$ negative	$A_y$ negative

تعتمد إشارة المركبة على الربع الذي تقع فيه:

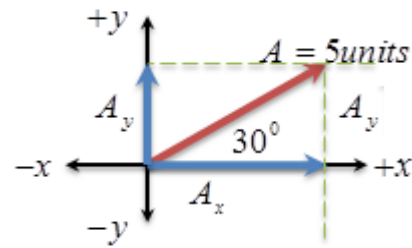
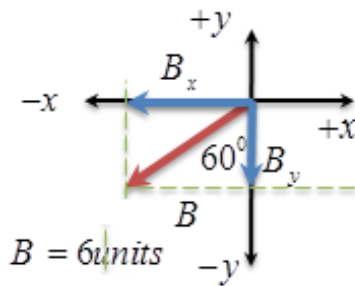
الإشارة موجبة: عندما تكون المركبة في

اتجاه  $+x$  أو  $+y$

الإشارة سالبة: عندما تكون المركبة في

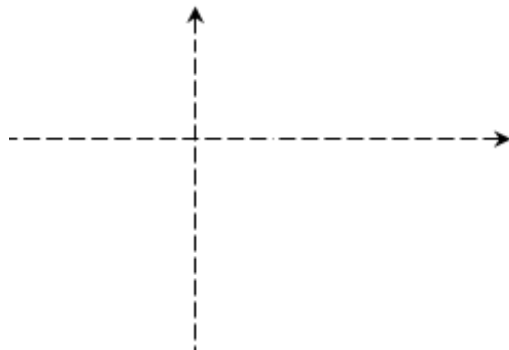
اتجاه  $-x$  أو  $-y$

تدريب : احسب قيمة مركبات المتجهات A و B الموضحة في الشكل.



تدريب: متجه مقداره 12 units ويصنع زاوية  $30^\circ$  مع محور  $x$  الموجب باتجاه عقارب الساعة.

احسب مقدار واتجاه المركبة الرأسية للمتجه.

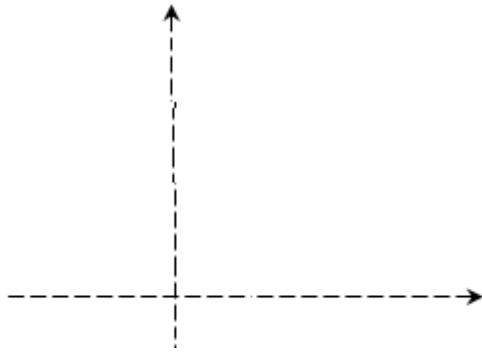


-----

-----

-----

**تدريب:** متجه في الربع الأول، قيمة مركبته على محور  $x$  تساوي نصف قيمته الكلية، احسب الزاوية التي يصنعها المتجه مع محور  $x$ .




---

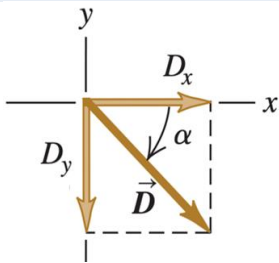
---

---

---

**Exercise:** find the components of vector  $\vec{D}$  given that:  $|\vec{D}| = 3.00$  m and angle:  $\alpha = 45^\circ$

**تدريب:** احسب مركبات المتجه  $\vec{D}$  علماً بأن:  $|\vec{D}| = 3.00$  m والزاوية  $\alpha = 45^\circ$




---

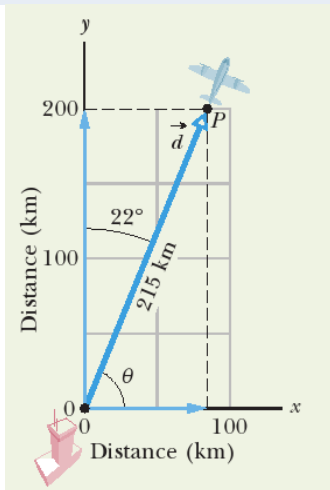
---

---

---

**Exercise:** A small airplane leaves an airport on an overcast day and is later sighted 215 km away, in a direction making an angle of  $22^\circ$  east of due north. How far east and north is the airplane from the airport when sighted?

**تدريب:** تغادر طائرة صغيرة مطاراً في يوم ملبد بالغيوم حيث شوهدت على بعد 215 km في اتجاه يصنع زاوية  $22^\circ$  شرقاً من الشمال. كم تبعد الطائرة شرقاً وشمالاً عن المطار عند رؤيتها؟




---

---

---

---

---

---

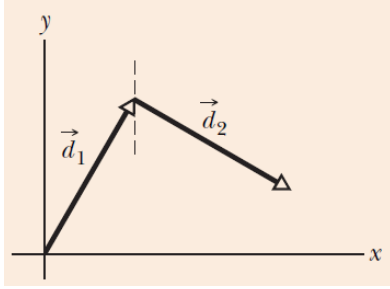
---

---



**Concept check:** what is the signs of components of vectors in fig. and the signs of components of vector:  $\vec{d}_2 - \vec{d}_1$

**التحقق من المفهوم:** حدد إشارات مركبات المتجهات الموضحة في الشكل، وإشارة مركبات المتجه:  $\vec{d}_2 - \vec{d}_1$




---

---

---

---

---

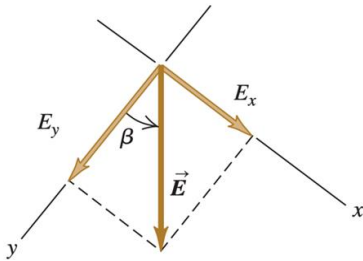
---

---

---

**Exercise:** find the components of vector  $\vec{E}$  given that:  $|\vec{E}| = 4.50$  mand angle:  $\beta = 37.0^\circ$

**تدريب:** احسب مركبات المتجه  $\vec{E}$  علماً بأن:  $|\vec{E}| = 4.50$  m والزاوية  $\beta = 37.0^\circ$




---

---

---

---

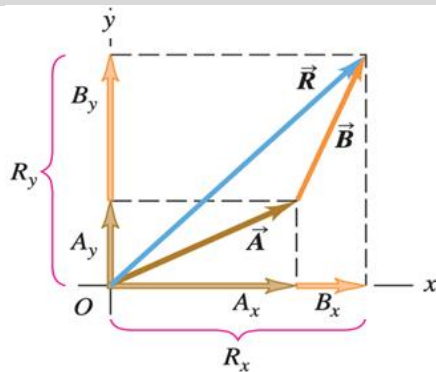
---

---

---

---

### جمع المتجهات بالمركبات Adding Vectors by Components



لدينا متجهان  $\vec{A}$  و  $\vec{B}$  ومحصلتها  $\vec{R}$  كما في الشكل. المحصلة  $\vec{R}$  لها مركبتان كالتالي:

$$R_x = A_x + B_x \quad R_y = A_y + B_y$$

$$\tan \theta = \frac{R_y}{R_x} \quad \text{واتجاه المحصلة: } R = \sqrt{R_x^2 + R_y^2}$$

إذا كان لديك عدد أكبر من المتجهات فكل ما عليك أن تكرر ذلك

$$R_x = A_x + B_x + C_x + \dots \quad R_y = A_y + B_y + C_y + \dots$$

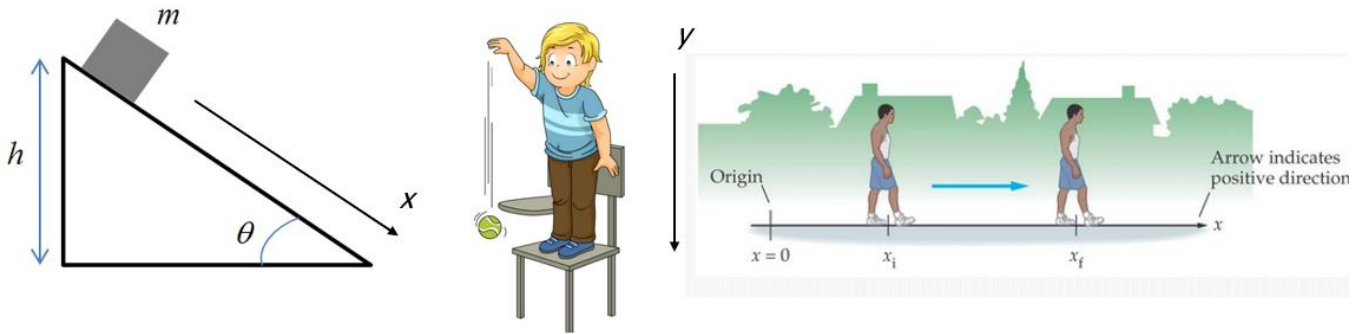








# الحركة في بعد واحد Motion In One Dimension



البعد الواحد يعني الحركة على طول خط مستقيم أو في اتجاه واحد، مثال ذلك شخص يركض على مسار مستقيم، أي على طول المحور  $x$ ، أيضاً: جسم مثل تفاحة تسقط سقوطاً حراً باتجاه الأرض، والحركة هنا على طول المحور  $y$ ، كذلك الحركة على مستوى مائل، ويمكن اعتبار المحور  $x$  على امتداد المستوى المائل، فتكون الحركة أيضاً في بعد واحد.

هذه أمثلة على الحركة أحادية البعد، هناك أربع كميات رئيسية يجب تتبعها عند تقييم حركة الأشياء، الزمن والإزاحة والسرعة والتسارع، تذكر أن الزمن هو كمية قياسية، والثلاثة الأخرى هي كميات متجهة. تعرفت في حقيبة موهوب 1 على مفهوم هذه الكميات الأربعة، وأيضاً درست بعض المنحنيات البيانية واستخدامها في وصف الحركة وإجراء الحسابات، وفي هذا الفصل ستتعرف أكثر على طرق متنوعة في حساب متغيرات الحركة من خلال استخدام معادلات الحركة، وتطبيقها على مواقف مختلفة.



## Introduction مقدمة

حتى تستطيع اتقان المفاهيم التي سنعرضها في هذا الفصل، عليك الرجوع إلى الفصل الخاص بالحركة في بعد واحد في حقبة موهوب 1، ومراجعة المحتوى العلمي بتركيز، وسنذكر الآن ببعض الموضوعات، خاصة مفاهيم متغيرات الحركة، وطرق إجراء الحسابات البيانية.

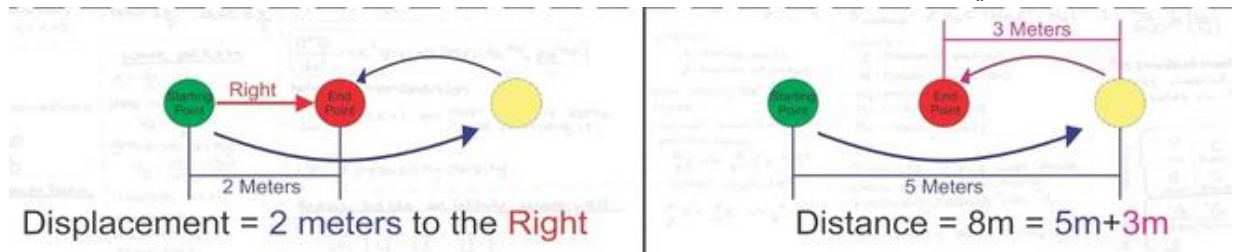
## المسافة والإزاحة Distance And Displacement

الإزاحة $\Delta x$ Displacement	المسافة $s$ Distance	
المتجه المستقيم الواصل بين موضعين للحركة. A straight vector between two positions of motion.	طول المسار الفعلي لحركة الجسم. The actual path length of the object's motion.	المفهوم
كمية متجهة Vector quantity	كمية قياسية Scalar quantity	النوع
$\Delta x = x_f - x_i$ or $\Delta y = y_f - y_i$	-	القانون
موجبة: إذا كانت باتجاه $+x, +y$ (الشرق والشمال) سالبة: إذا كانت باتجاه $-x, -y$ (الغرب والجنوب) Positive: if it is in $+x, +y$ (east-north) direction Negative: if it is in $-x, -y$ (west-south) direction	دائماً موجبة.	الإشارات

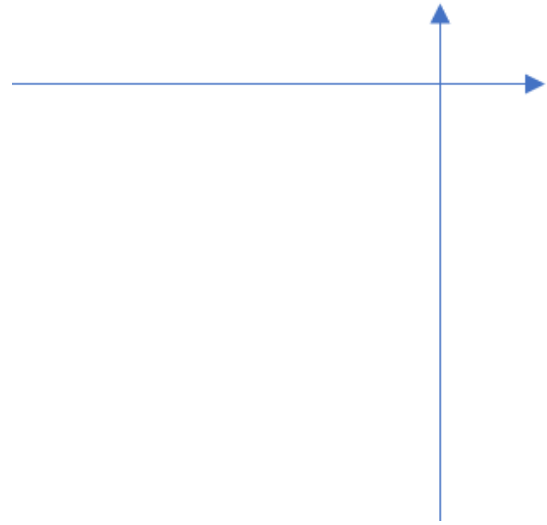
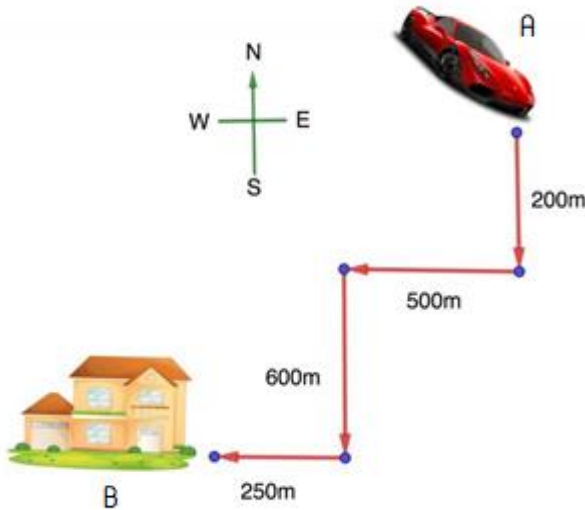


يتضح الفرق بين مفهومي المسافة والإزاحة، في مثال حركة دراجة على المسار الأحمر الموضح في الشكل.

مكعب يتحرك كما في الشكل، لاحظ الفرق بين المسافة والإزاحة.



**تدريب:** تتحرك سيارة من الموقع A للوصول إلى المنزل عند B، عبر المسارات المستقيمة الموضحة بالشكل. احسب: (هـ) المسافة التي قطعها السيارة (ب) إزاحتها النهائية مقداراً و اتجاهاً (استخدم المتجهات المتعامدة).




---

---

---

---

---

---

---

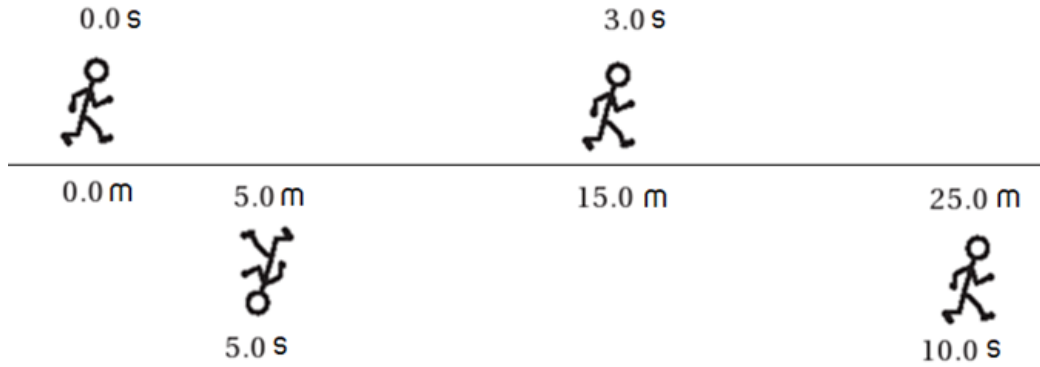
---

### السرعة والسرعة المتجهة Speed And Velocity

السرعة هي معدل تغير المسافة أو الإزاحة مع الزمن، أي كم يقطع الجسم من الأمتار في كل ثانية، ووحدتها في النظام الدولي للوحدات m/s. السرعة المتجهة اللحظية Velocity هي سرعة الجسم عند لحظة معينة، أما إذا كان اهتمامنا في حساب السرعة خلال فترة زمنية طويلة نسبياً (غير لحظية) فهنا يكون الناتج: السرعة المتوسطة Average Velocity

السرعة المتوسطة المتجهة Average Velocity	السرعة المتوسطة العددية Average Speed	
متوسط تغير الإزاحة بالنسبة للزمن The average change of displacement with respect to time.	متوسط تغير المسافة بالنسبة للزمن. The average change of distance with respect to time.	<b>التعريف</b> Concept
كمية متجهة Vector quantity	كمية قياسية Scalar quantity	<b>القانون</b> Law
$\bar{v} = \frac{\Delta x}{\Delta t} = \frac{x_f - x_i}{\Delta t}$	$\bar{v} = \frac{s}{\Delta t}$ Distance هي المسافة	
موجبة أو سالبة Positive or negative depending on its direction: Positive in direction of +x or +y Negative in direction of -x or -y	دائماً موجبة Always positive	<b>الإشارات</b> Signs

**تدريب:** يتحرك عداء كما في مخطط الحركة الموضح في الشكل، ويظهر موقعه عند بعض اللحظات الزمنية. إذا قام الشخص بعكس اتجاه حركته عند  $t = 3 \text{ s}$  و  $t = 5 \text{ s}$  احسب: (a) سرعته المتوسطة العددية و (b) المتجهة من بداية حركته وحتى  $t = 10 \text{ s}$  بوحدة  $\text{m/s}$



## التسارع Acceleration

يعرف التسارع بأنه متوسط تغير السرعة المتجهة اللحظية بالنسبة للزمن. وهو كمية متجهة، ويقاس بوحدة  $(\text{m/s}^2)$  في النظام الدولي للوحدات.

$$\vec{a} = \frac{\Delta \vec{v}}{\Delta t} = \frac{\vec{v}_f - \vec{v}_i}{\Delta t}$$

### إشارات التسارع:

يكون التسارع موجباً عندما يكون باتجاه  $+x$  و  $+y$  يكون التسارع سالباً عندما يكون باتجاه  $-x$  و  $-y$

علاقة التسارع بالسرعة المتجهة:

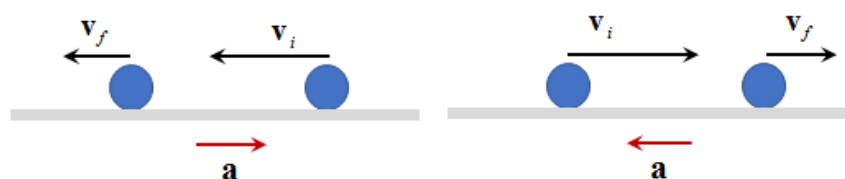
إذا كان التسارع في اتجاه السرعة: يزيد مقدار السرعة

If the acceleration is in the direction of velocity: the velocity increases.

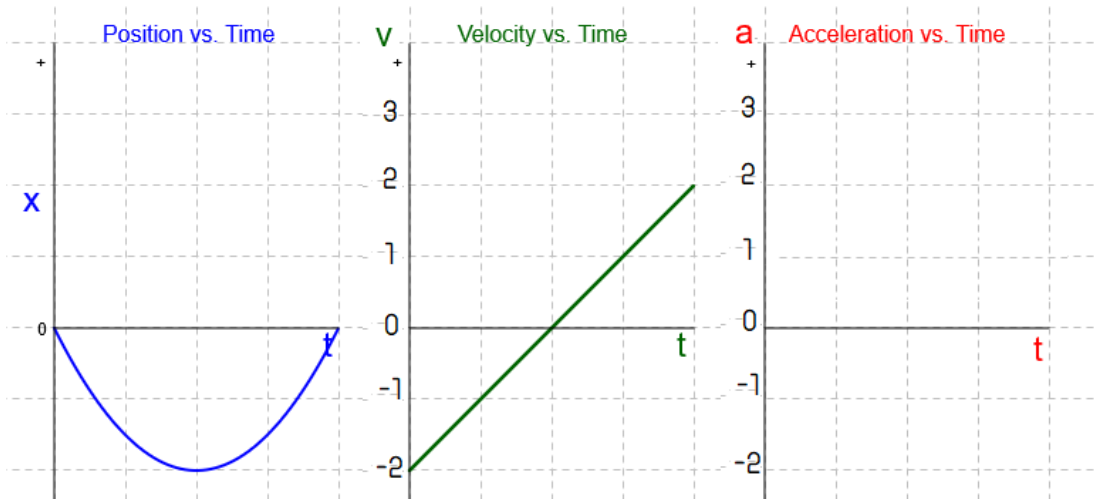


إذا كان التسارع عكس اتجاه السرعة: يقل مقدار السرعة

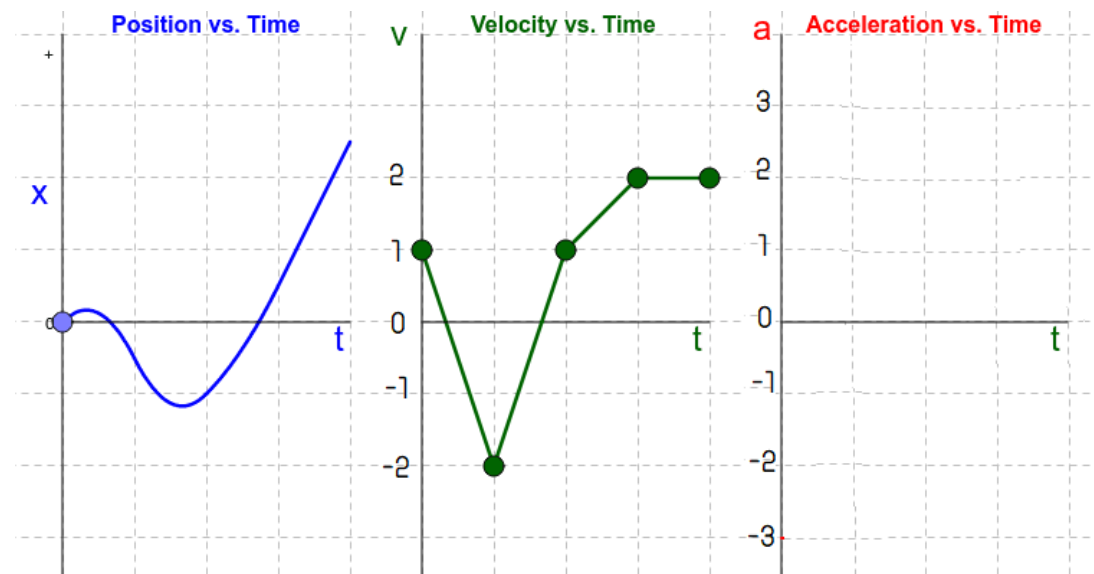
If the acceleration is opposite to the velocity, the velocity decreases.



**تدريب:** يتحرك جسم على خط مستقيم، منحنيات (الموضع - الزمن) و (السرعة المتجهة - الزمن) معطاة لك. احسب تسارع الجسم، ثم أكمل رسم منحنى (التسارع - الزمن).



**تدريب:** يتحرك جسم على خط مستقيم، منحنيات (الموضع - الزمن) و (السرعة المتجهة - الزمن) معطاة لك. احسب تسارع الجسم في الفترات الزمنية المختلفة، ثم أكمل رسم منحنى (التسارع - الزمن).





## معادلات الحركة:

$$\Delta x = v_f t - \frac{1}{2} a t^2$$

$$\Delta x = v_i t + \frac{1}{2} a t^2$$

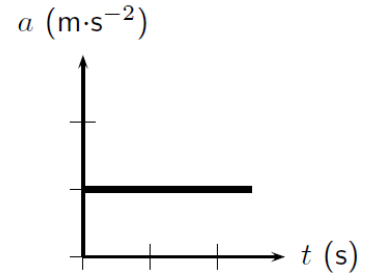
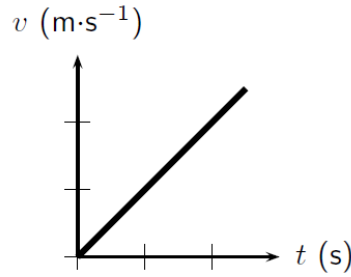
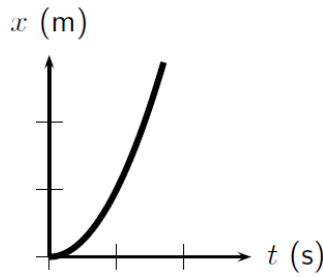
$$v_f = v_i + a t$$

$$v_f^2 = v_i^2 + 2 a \Delta x$$

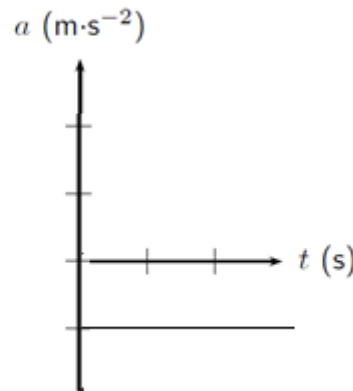
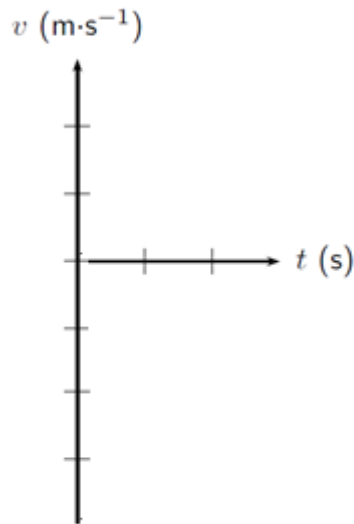
$$\Delta x = \left( \frac{v_f + v_i}{2} \right) t$$

مثل هذا النوع من الحركة (بتسارع ثابت موجب في اتجاه الحركة) يمكن تمثيله بالرسوم البيانية التالية:  
ملاحظة: كل تدريج قيمته 1

Motion with  
constant ac-  
celeration



**تدريب:** جسم يتحرك على خط مستقيم بتباطؤ قدره  $1 \text{ m/s}^2$  , اكمل رسم منحنى (السرعة - المتجهة الزمن).  
ملاحظة: كل تدريج قيمته 1



## مهارات الحل باستخدام معادلات الحركة:

- (1) إذا كانت الحركة في اتجاه واحد: اعتبره اتجاهًا موجباً للحركة أيًا كان. وتكون إشارات الإزاحة والسرعة والتسارع موجبة في هذا الاتجاه وسالبة في الاتجاه الآخر.
- (2) إذا كانت الحركة في أكثر من اتجاه على خط واحد: اعتبر أحد الاتجاهات هو الموجب (مثلاً لليمين أو لأعلى) والآخر سالب (لليسار أو لأسفل). وتكون إشارات الإزاحة والسرعة والتسارع موجبة في الاتجاه الموجب وسالبة في الاتجاه الآخر.
- (3) استخدم المعادلة المناسبة والتي تكون فيها جميع الكميات معلومة ماعدا الكمية المراد حسابها.
- (4) إذا احتوت المسألة على أكثر من تسارع، تطبق المعادلات لكل مرحلة تسارع على حدة.
- (5) تحتاج لعدد من المعادلات يساوي عدد المجاهيل.

**تدريب:** تبدأ سيارة حركتها من السكون بتسارع ثابت قدره  $5 \text{ m/s}^2$ ، احسب سرعتها بوحدة (m/s) بعد انقضاء أربع ثوانٍ.

**تدريب:** سيارة ساكنة تنطلق بتسارع ثابت وتقطع  $20.0 \text{ m}$  في  $4.0 \text{ s}$ ، احسب تسارعها بوحدة ( $\text{m/s}^2$ ).

**تدريب:** تحركت سيارة من السكون على خط مستقيم بتسارع قدره  $2 \text{ m/s}^2$ ، ماهي المسافة التي تقطعها بوحدة (m) عندما تصبح سرعتها  $40 \text{ m/s}$ ؟

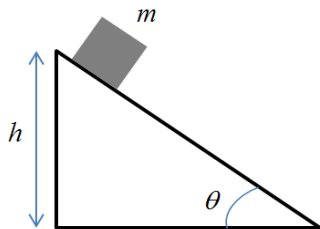
**تدريب:** يتحرك جسم على خط مستقيم بتسارع ثابت  $2 \text{ m/s}^2$  وبسرعة ابتدائية  $20 \text{ m/s}$ ، احسب الإزاحة التي يقطعها الجسم في  $10 \text{ s}$ .

**تدريب:** تتسارع سيارة بمعدل ثابت من  $15 \text{ m/s}$  إلى  $25 \text{ m/s}$  لتقطع مسافة  $125 \text{ m}$ ، ما الزمن الذي استغرقته السيارة لتصل إلى هذه السرعة؟

**تدريب:** بدأ جسم حركته من السكون وقطع إزاحة  $x$  في زمن  $t_1$  بتسارع  $a$ ، وفي محاولة ثانية بدأ حركته من السكون أيضاً وقطع إزاحة مساوية  $x$  ولكن في زمن قدره  $t_2$  وبسارع  $2a$ ، أي التالي صحيح؟

(أ)  $t_1 = \frac{\sqrt{2}}{2} t_2$       (ب)  $t_1 = \sqrt{2} t_2$       (ج)  $t_1 = \frac{2}{\sqrt{2}} t_2$       (د)  $t_1 = \frac{1}{\sqrt{2}} t_2$

**تدريب:** ينزلق صندوق على منحدر من السكون، بتسارع ثابت قدره  $1 \text{ m/s}^2$ ، ويقطع مسافة قدرها  $8 \text{ m}$  للوصول إلى أسفل المنحدر. احسب سرعته النهائية بوحدة (m/s) عند لحظة وصوله أسفل المنحدر.





### ملاحظة مهمة Important Note

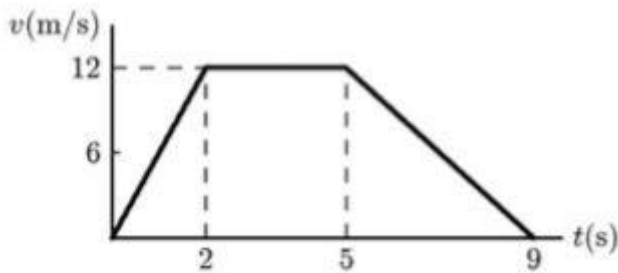


عندما تكون الحركة في اتجاه واحد أيا كان، وتكون السرعة متناقصة، أي التسارع عباره عن تباطؤ، نعتبر اتجاه الحركة هو الاتجاه الموجب، ويكون التسارع (التباطؤ) بإشارة سالبة.

**تدريب:** يتحرك صندوق على سطح أفقي خشن، ويتباطأ بمعدل  $2 \text{ m/s}^2$  ويستغرق  $3 \text{ s}$  حتى يتوقف، احسب السرعة الابتدائية للجسم.

**تدريب:** يتحرك جسم على خط مستقيم وتتغير سرعته كما في الرسم البياني.

احسب الإزاحة التي قطعها الجسم خلال كامل حركته باستخدام (ه) معادلات الحركة، (ب) الحسابات البيانية.




**تدريب:** تتباطأ سيارة من  $22 \text{ m/s}$  إلى  $3.0 \text{ m/s}$  بمعدل ثابت قدره  $2.1 \text{ m/s}^2$  كم عدد الثواني المطلوبة قبل ان تسير السيارة بسرعة  $3.0 \text{ m/s}$

### ملاحظة هامة Important Note



عندما يكون في المسألة الواحدة أكثر من تسارع، نقسمها إلى مراحل (كل مرحلة لتسارع واحد)، ونطبق معادلات الحركة في كل مرحلة على حدة، مع ربط المتغيرات بين المراحل إن أمكن.

**تدريب:** انطلقت سيارة من السكون بتسارع ثابت، بعد 6 s أصبحت سرعتها 25 m/s ، ثم تحركت بسرعة ثابتة بقية الطريق، احسب المسافة التي قطعها السيارة بعد 26 s



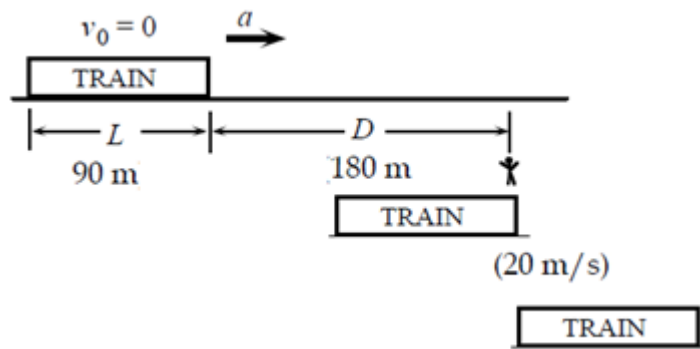
**تدريب:** جسم يتحرك من السكون بتسارع قدره  $8 \text{ m/s}^2$  لمدة ثلاث ثواني، ثم يتباطأ بعد ذلك بمعدل  $-2 \text{ m/s}^2$  لمدة ثانيتين، احسب الإزاحة التي يقطعها الجسم خلال الثلاثين ثانية.

**تدريب:** هبطت طائرة على المدرج بسرعة  $63 \text{ m/s}$  في الموقع  $x = 0.0$  وبعد 2.0s توقفت. احسب الموقع النهائي للطائرة على المدرج؟

**تدريب:** ينزلق صندوق من السكون على منحدر بتسارع ثابت وتصبح سرعته  $9 \text{ m/s}$  بعد ثلاث ثواني، احسب المسافة التي قطعها الصندوق في الثانية الأولى.

**تدريب:** يجري رجل بسرعة  $4.5 \text{ m/s}$  لمدة  $15.0 \text{ min}$  ثم يصعد مرتفع يتزايد ارتفاعه تدريجياً حيث يتباطأ بمقدار ثابت  $0.05 \text{ m/s}^2$  مدة  $90.0 \text{ s}$  حتى يتوقف. اوجد المسافة التي قطعها

**تدريب:** قطار طوله  $90.0 \text{ m}$  يتحرك من السكون، يقف عامل على بعد  $180.0 \text{ m}$  من مقدمة القطار، عندما بدأ يتسارع باتجاه العامل، سرعة مقدمة القطار عند مرورها بالعامل  $20.0 \text{ m/s}$  احسب سرعة مؤخرة القطار عند مرورها أمام العامل؟















**Exercise :** Two boys start running straight toward each other from two points that are 100 m apart. One runs with a speed of 5 m/s, while the other moves at 7 m/s. How close are they to the slower one's starting point when they reach each other?

**تدريب:** يبدأ صبيان الركض أحدهما نحو الآخر عبر الاستقامة الفاصلة بينهما والمساوية 100 m , يركض أحدهما بسرعة 5 m/s والآخر بسرعة 7 m/s على أي مسافة من النقطة التي انطلق منها الصبي الأبطأ سيلتقي الصبيان؟

**Exercise:** Two trains are headed toward each other on the same track with equal speeds of 20 m/s. When they are 2 km apart, they see each other, If only one train slows with acceleration.  $-2 \text{ m/s}^2$ , how far will it go before collision occurs??

**تدريب:** يتجه قطاران أحدهما نحو الآخر على نفس المسار بسرعتين متساويتين 20 m/s عندما تصبح المسافة الفاصلة بينهما 2 km , يشاهد كل منهما الآخر, إن عمد أحد القطارين فقط على التباطؤ بمقدار  $-0.2 \text{ m/s}^2$  , ماهي المسافة التي سيقطعها قبل وقوع التصادم.

## السقوط الحر Free fall

وهو حركة جسم بتأثير الجاذبية الأرضية فقط، في خط عمودي على سطح الإسناد (الأرض).  
نعتبر الاتجاه لأعلى موجياً دائماً، يكون التسارع المؤثر:  $g = -9.8 \text{ m/s}^2$  أثناء الصعود والهبوط.

### حالة الصعود:

- يبدأ الجسم الصعود بسرعة ابتدائية معينة.  
- تقل سرعته تدريجياً بتباطؤ قدره  $g = -9.8 \text{ m/s}^2$   
(أي تقل بمقدار  $9.8 \text{ m/s}$  في كل ثانية).

- عندما يصل الجسم إلى أقصى ارتفاع تكون سرعته النهائية صفراً:  
 $v_f = 0$

- تكون قيم السرعات موجبة (لأنها للأعلى مع اتجاه الحركة الموجب).  
- الإزاحة (محسوبة من الأسفل)، متجه من نقطة القذف وحتى موضع الجسم وتكون موجبة (لأنها للأعلى مع اتجاه الحركة الموجب).

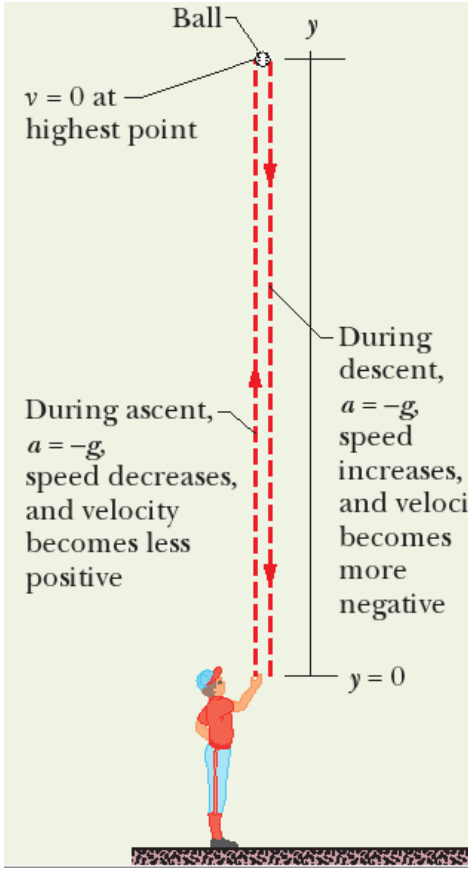
### حالة الهبوط:

- يبدأ الجسم الهبوط بسرعة ابتدائية:  $v_i = 0$   
- تزداد سرعته تدريجياً بتسارع قدره  $g = -9.8 \text{ m/s}^2$   
(أي تزيد بمقدار  $9.8 \text{ m/s}$  في كل ثانية).

- عندما يصل الجسم إلى مستوى مواز لنقطة إطلاقه تكون له نفس السرعة.

- تكون قيم السرعات سالبة (لأنها للأسفل عكس اتجاه الحركة الموجب).

- الإزاحة (محسوبة من الأعلى)، متجه من نقطة السقوط وحتى موضع الجسم وتكون سالبة (لأنها للأسفل عكس اتجاه الحركة الموجب).



### ملاحظة هامة:



يمكن حساب إزاحة الجسم وسرعته عند أي لحظة زمنية خلال فترة الصعود أو الهبوط، بالاستفادة من معادلات الحركة وباعتبار أن التسارع  $a$  في معادلات الحركة هو دائماً:  $g = -9.8 \text{ m/s}^2$

$$\Delta y = v_{yf} t - \frac{1}{2} g t^2$$

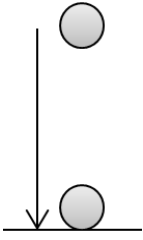
$$\Delta y = v_{yi} t + \frac{1}{2} g t^2$$

$$v_{yf} = v_{yi} + g t$$

$$v_{yf}^2 = v_{yi}^2 + 2g \Delta y$$

$$\Delta y = \left( \frac{v_{yf} + v_{yi}}{2} \right) t$$

**تدريب:** سقط جسم سقوطاً حراً من أعلى ناطحة سحاب ووصل الأرض بعد 5 s  
احسب ارتفاع الناطحة السحاب بوحدة (m)



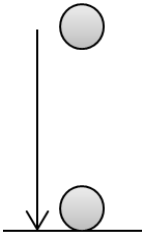

---

---

---

---

**تدريب:** قذف جسم عمودياً لأعلى وبعد مرور ثانيتين وصل لأعلى نقطة.  
احسب سرعته الابتدائية بوحدة (m/s).




---

---

---

---

**تدريب:** في السؤال السابق، احسب أقصى ارتفاع يصل إليه الجسم بوحدة (m).

---

---

---

---

**تدريب:** سقط جسم سقوطاً حراً من ارتفاع 10 m احسب سرعته قبل اصطدامه بالأرض بإهمال مقاومة الهواء.

---

---

---

---

**تدريب:** تُطلق قذيفة مضادة للطائرات رأسياً نحو الأعلى بسرعة ابتدائية قدرها 500 m/s . بإهمال مقاومة الهواء، ماهي سرعة القذيفة بعد مرور 80 s بوحدة (m/s) ؟

---

---

---

---

تدريب: في التدريب السابق، احسب ارتفاع القذيفة بعد مرور 20 s

---

---

---

---

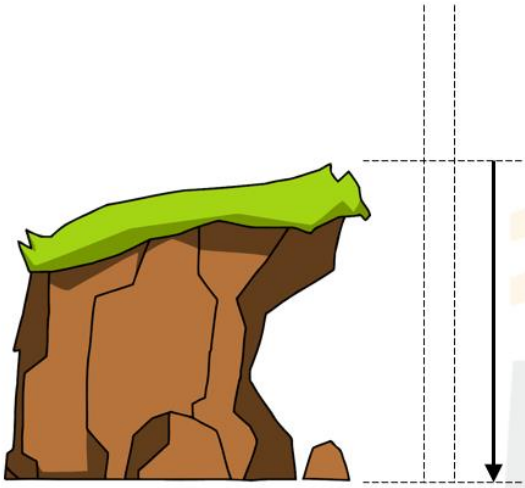
---

---

---

---

تدريب: قذيفة أطلقت باتجاه الأعلى، من حافة جرف يرتفع 100 m عن سطح الأرض، واستغرقت 10 s للوصول إلى سطح الأرض، احسب سرعة إطلاقها.




---

---

---

---

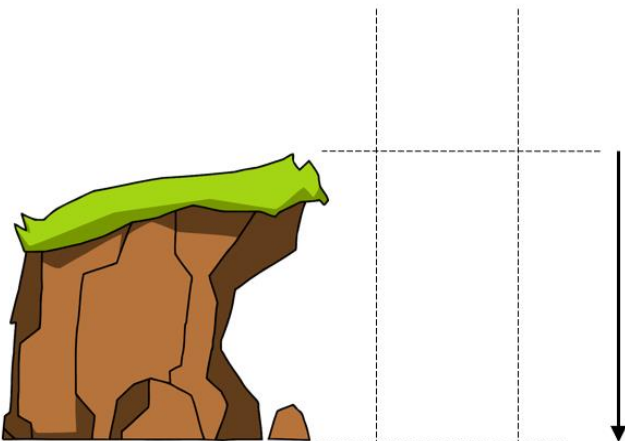
---

---

---

---

تدريب: يقوم طفل من على حافة جرف (هاوية) بقذف كرة ه عمودياً للأعلى بسرعة  $v$  ، ويقوم بقذف كرة ب عمودياً للأسفل بنفس السرعة  $v$  ، أي العبارات التالية صحيحة؟  
أ) تصل الكرة ه لقاع الجرف بسرعة أكبر. ب) تصل الكرة ب لقاع الجرف بسرعة أكبر.  
ج) تصل الكرتان ه و ب لقاع الجرف بنفس السرعة.  
فسر اختيارك.




---

---

---

---

---

---

---

---

**Exercise :** An antiaircraft shell is fired vertically upward with an initial velocity of 500 m/s. Neglecting friction, When will its height be 10km during descending?


**تدريب:** تُطلق قذيفة مضادة للطائرات رأسياً نحو الاعلى بسرعة ابتدائية قدرها 500 m/s . بإهمال مقاومة الهواء، متى تصبح القذيفة على ارتفاع 10km وهي هابطة؟

**Exercise:** A stone is thrown vertically upward with velocity 40 m/s at the edge of a cliff having a height of 110 m. Neglecting air resistance, compute the time required to strike the ground at the base of the cliff. With what velocity does it strike?

**تدريب:** قُذِف حجر باتجاه الأعلى، من صافة جرف يرتفع 110 m عن سطح الأرض، بسرعة ابتدائية قدرها 40 m/s، بإهمال احتكاك الهواء، احسب الزمن اللازم كي يرتطم الحجر بسطح الارض عند قاعدة الجرف، و ما سرعة الحجر لحظة الارتطام؟

**Exercise :** Suppose you adjust the opening of the water hose in your garden, to a strong stream of water, and point the opening of the hose up, at a height of 1.5 m above the ground, and you hear the water hitting the ground after 2 s. What is the speed of the water when it comes out of the hose hole?

**تدريب:** افرض أنك ضبطت فتحة خرطوم المياه في حديقتك، على تيار شديد من الماء، ووجهت فتحة الخرطوم إلى الأعلى، على ارتفاع 1.5 m عن سطح الأرض، وأنتك تسمع الماء يرتطم بالأرض بعد 2 s، ما سرعة الماء عندما ينطلق من فتحة الخرطوم؟




---

---

---

---

---

---

---

---

---

---

**Exercise :** An object is ejected upwards with an initial velocity, and in a subsequent attempt it is ejected with a velocity twice that of the first. find the relationship between the maximum height in the two cases as a mathematical equation.

**تدريب:** قُذِف جسم إلى الأعلى بسرعة ابتدائية ما، وفي محاولة لاحقة قُذِف بسرعة تبلغ ضعف السرعة الأولى. احسب العلاقة بين الارتفاع الأقصى في الحالتين كعلاقة رياضية.

---

---

---

---

---

---

---

---

---

---

